

21078-11

**Работа**  
участника муниципального этапа  
всероссийской олимпиады школьников  
городского округа Большой Камень  
Приморского края 2023-2024 учебного года.

Основы безопасности жизнедеятельности  
(предмет)

ученицы 8.4 класса

МБОУ СОШ № 1

Хомутово́й Евы Константиновны  
(фамилия, имя, отчество в родительном падеже)

дата рождения (Ч, М, Г)

8 сентября 2009г.

### Тестовые задания

Определите один правильный ответ.

1. Каким знаком обозначается пешеходная дорожка?

а)



б)



в)



г)



0

2. Какие из природных ЧС наиболее часты во Владивостоке?

а) бури, ураганы

б) засухи

в) тайфуны

г) оползни

2

3. Что запрещает изображенный знак безопасности?

а) оставлять животных

б) вход (проход) с собаками

в) выгул животных

г) вход (проход) с животными



0

4. Возможно ли провести заблаговременные эвакуационные мероприятия для обеспечения безопасности населения при землетрясении?

а) да

б) нет

в) только при своевременном мониторинге

г) только в условиях равнинной местности

0

5. На какое расстояние от пострадавшего желательно бросать спасательный круг?

а) 0,2–0,4 м

неверно  б) 0,5–1,5 м

в) 0,7–2 м

г) 2–2,5 м

0

6. Безопасно ли во время пожара в доме пользоваться лифтом?

неверно  а) нет

б) да

в) только вместе со взрослыми

г) только вместе с пожарными

0

7. Какой из противогазов предназначен для школьников?

- а) ПДФ-2Д
- б) ГП -5
- в) ГП -7
- г) ПДФ-Ш

8. Для обеспечения правильной рабочей позы за письменным столом высота сиденья стула должна быть равной

- а) длине голени
- б) длине голени плюс 2 см на высоту каблука
- в) длине голени минус 2 см на высоту каблука
- г) длине голени минус 10 см

9. Для первой степени термического ожога характерны следующие признаки:

- а) отёк, покраснение
- б) отёк, покраснение, появление пузырей, наполненных прозрачной жидкостью
- в) отёк, обугливание кожи с потерей чувствительности
- г) обугливание мышц и костей

10. Как называется вид помощи пострадавшему, оказываемый до медицинской помощи при несчастных случаях, травмах, отравлениях и других состояниях и заболеваниях, угрожающих жизни и здоровью пострадавшего?

- а) первая неотложная помощь
- б) доврачебная помощь
- в) первая помощь
- г) неотложная помощь

Определите все правильные ответы.

11. Какое значение имеет жёлтый мигающий сигнал светофора?

- а) разрешает движение и информирует о наличии нерегулируемого перекрёстка
- б) предупреждает об опасности
- в) запрещает движение
- г) разрешает движение
- д) разрешает движение и информирует, что время его действия истекает

12. По каким признакам днём в тихую погоду возможно определить мелкие места на реке?

- а) поверхность воды более светлая
- б) поверхность воды более тёмная
- в) поверхность воды имеет волнистый вид
- г) поверхность воды более ровная
- д) поверхность воды имеет тихое течение

13. Какое положение рук поможет обеспечить личную безопасность в толпе при давке?

- а) руки находятся возле бёдер
- НЕ ВЕРНО →  б) руки находятся возле груди
- в) руки находятся в грудных карманах
- г) руки согнуты в кистях
- д) руки согнуты в локтях

14. Какие признаки могут указывать на возможность возникновения пурги?

- а) понижение температуры воздуха
- б) повышение температуры воздуха
- в) постепенное увеличение скорости ветра
- г) постепенное понижение скорости ветра

15. Где наиболее безопасно находиться во время грозы?

- а) на возвышенности
- б) у входа в пещеру
- в) среди невысоких деревьев с густыми кронами
- г) в сухой яме
- д) в скальной яме



16. Какие ЧС относятся к метеорологическим?

- а) заморозки
- б) бури
- в) цунами
- г) магнитные бури
- д) падение метеоритов

0

17. Что является биологически опасным объектом?

- а) предприятия тяжёлого машиностроения
- б) целлюлозно-бумажные предприятия
- в) фармацевтические предприятия
- г) предприятия цветной металлургии
- д) пищевые предприятия

0

18. В какие промежутки времени принятие световоздушных ванн является наиболее безопасным для здоровья человека в средней климатической зоне?

- а) 9.00 – 11.00
- б) 11.00 – 14.00
- в) 14.00 – 17.00
- г) 17.00 – 19.00
- д) 19.00 – 22.00

0

19. Признаками ушиба и растяжения являются:

- а) боль, нарушение функции конечности
- б) отёк и кровоизлияние
- в) боль, деформация конечности
- г) патологическая подвижность в месте травмы
- д) деформация конечности, кровоизлияние

2

20. Какие меры можно предпринять для уменьшения болезненности травмированной конечности при оказании первой помощи?

- а) приложить тепло
- б) приложить холод
- в) создать покой конечности
- г) помассировать конечность
- д) дать обезболивающее средство

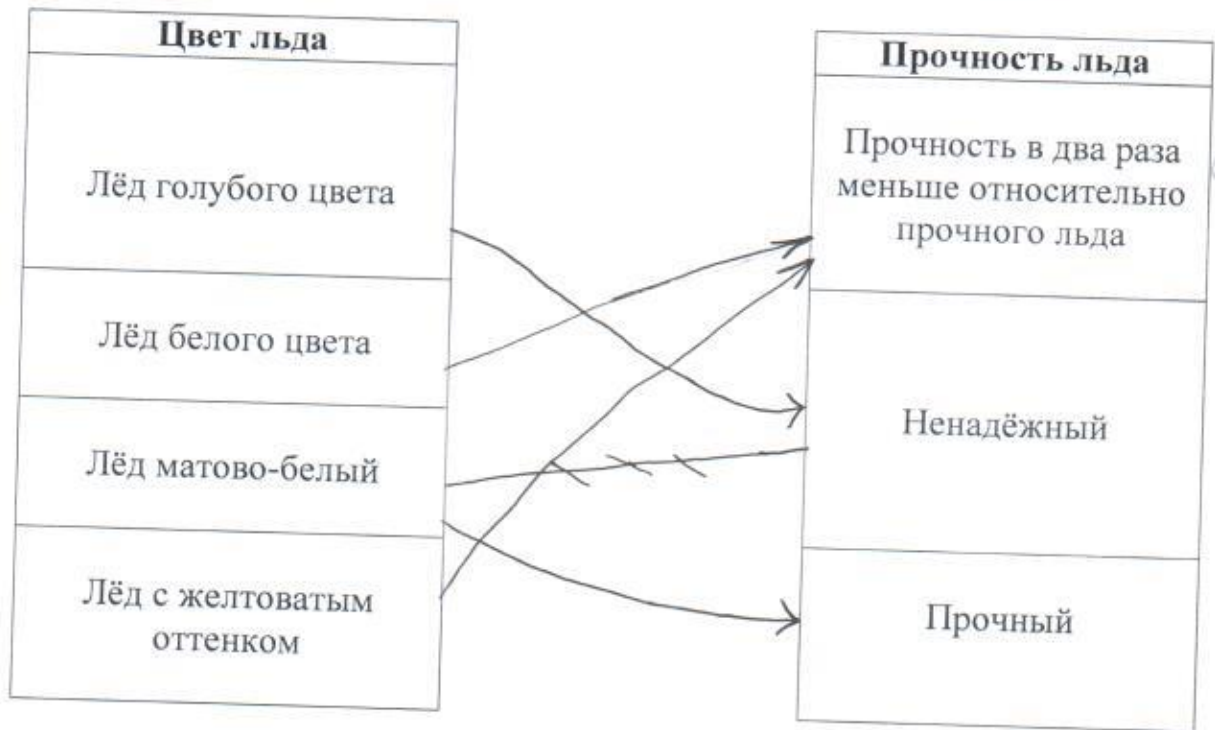
4

Максимум за задания 60 баллов.

## Теоретические задания

### Задание 1

Прочность льда можно определить визуально. Укажите стрелками соответствие между цветом льда и характеристикой его прочности.



Максимум за задание 10 баллов.

## Задание 2

Регулировщик с помощью определённых сигналов регулирует дорожное движение.

Установите соответствие между сигналами регулировщика и их значением для водителя транспортного средства. Запишите в таблицу выбранные цифры под соответствующими буквами.

Сигналы регулировщика	
А	Руки вытянуты в стороны или опущены
Б	Правая рука вытянута вперед
В	Рука поднята вверх

Значение для водителя транспортного средства	
1	Со стороны груди и спины движение всех транспортных средств запрещено
2	Движение всех транспортных средств и пешеходов запрещено во всех направлениях
3	Со стороны левого бока разрешено движение безрельсовых транспортных средств во всех направлениях
4	Со стороны левого и правого бока разрешено движение безрельсовых транспортных средств прямо и направо
5	Со стороны груди всем транспортным средствам разрешено движение только направо

**Ответ:**

А	Б	В
2 0	3 2	1

Максимум за задание 10 баллов.

### Задание 3

Основным способом временной остановки артериального кровотечения является наложение кровоостанавливающего жгута.

Ниже представлены признаки, которые появляются при правильном наложении жгута и которые могут появиться, если жгут наложен неправильно.

Впишите цифры, которыми обозначены признаки, в соответствующие графы таблицы.

#### Признаки:

- 1) остановка кровотечения
- 2) побледнение конечности
- 3) отёк конечности
- 4) усиление кровотечения
- 5) отсутствие пульса на артерии ниже наложенного жгута
- 6) посинение кожи конечности

#### Ответ:

Жгут наложен правильно	Жгут наложен неправильно
1	3
2	4
5	6

1  
1  
1

+ 2  


Максимум за задание 8 баллов.



#### Задание 4

Спасательный круг является предметом, увеличивающим плавучесть человека. Укажите порядок и особенности броска спасательного круга, в том числе с лодки.

Вариант ответа:

Мы оставляем один конец верёвки на борту/суше, далее кидаем спасательный круг человеку тому же, при этом верёвка должна ни за что не зацепляться и не завязываться в узел. Человек должен поймать круг и зацепить в него / на него.

Потом мы тянем человека на себя за верёвку, которую оставили на борту/суше. Далее помогаем человеку забраться на лодку / землю.

Максимум за задание 12 баллов.

68

Максимум за работу 100 баллов.

169

Работа  
участника муниципального этапа  
всероссийской олимпиады школьников  
городского округа Большой Камень  
Приморского края 2023-2024 учебного года.

ОБЖ

(предмет)

учени цол 10А класса

МБОУ СОШ № 2

Штак Фарис Владимирович

(фамилия, имя, отчество в родительном падеже)

дата рождения (Ч, М, Г)

10.08.2007

ВСЕРОССИЙСКАЯ ОЛИМПИАДА ШКОЛЬНИКОВ

ПО ОБЖ 2023–2024 уч. г.

МУНИЦИПАЛЬНЫЙ ЭТАП

10–11 классы

Жг  
35

***Уважаемый участник!***

При выполнении заданий Вам предстоит выполнить определённую работу, которую лучше организовать следующим образом:

- внимательно прочитайте задание;
- если Вы отвечаете на теоретический вопрос или решаете ситуационную задачу, обдумайте и сформулируйте конкретный ответ (ответ должен быть кратким, и его содержание следует вписать в отведённое поле, пишите чётко и разборчиво);
- при ответе на тесты определите верный ответ, обведите кружком букву (буквы), соответствующую(-не) выбранному Вами ответу.

За каждый правильный ответ Вы можете получить определённое членами жюри количество баллов, не выше указанной максимальной оценки.

Сумма набранных баллов за все решённые вопросы в двух форматах – итог Вашей работы. Максимальное количество баллов – 100.

Задания считаются выполненными, если Вы вовремя сдали их членам жюри.

**Желаем успеха!**

**Тестовые задания**

*Определите один правильный ответ.*

- 1. При достижении какого возраста предоставляется право на управление транспортными средствами категории «М» и подкатегории «А1»?**
  - а) по достижению восемнадцатилетнего возраста
  - б) по достижению шестнадцатилетнего возраста
  - в) по достижению семнадцатилетнего возраста
  - г) по достижению девятнадцатилетнего возраста
- 2. Сколько времени отводиться в современном мегаполисе для прибытия первого подразделения пожарной охраны на место возгорания?**
  - а) 10 минут
  - б) 15 минут
  - в) 20 минут
  - г) 25 минут
- 3. Что присваивается по окончании подготовки в ДОСААФ?**
  - а) квалификация
  - б) военно-учётная специальность
  - в) должность специалиста
  - г) воинское звание
- 4. Какому должностному лицу предоставляется право заключать с военнослужащим первый контракт от лица Минобороны России?**
  - а) начальнику военного комиссариата
  - б) командиру учебной воинской части
  - в) командующему видом войск
  - г) военному комиссару
- 5. Через какие органы и системы могут проникать аварийнохимические опасные вещества в организм человека?**
  - а) органы дыхания, кожные покровы, слизистые оболочки, желудочно-кишечный тракт
  - б) органы осязания, волосяные покровы, кишечник, кровеносная система
  - в) опорно-двигательная система, мозжечок, головной мозг, слизистая оболочка
  - г) желудочно-кишечный тракт, кожные покровы, кровеносная система, зрительная система



Всероссийская олимпиада школьников по ОБЖ. 2023–2024 уч. г.  
Муниципальный этап. 10–11 классы.

**6. Какие группы опасных природных явлений наиболее распространены в Российской Федерации?**

- а) космические, подземные, надземные, вулканические, снежные
- б) чрезвычайные, местные, ситуационные, ландшафтные, биологические
- в) геологические, метеорологические, гидрологические, природные
- г) океанические, атмосферные, динамические, визуальные, медицинские

**7. Как расшифровывается аббревиатура МЧС России?**

- а) Министерство Российской Федерации по делам гражданской обороны, чрезвычайным ситуациям и ликвидации последствий стихийных бедствий
- б) Министерство Российской Федерации по делам гражданской защиты, чрезвычайным последствиям и ликвидации стихийных бедствий
- в) Министерство Российской Федерации по делам народной дружины, чрезвычайным стихийным бедствиям и ликвидации последствий
- г) Министерство Российской Федерации по делам гражданской защиты, ликвидации последствий стихийных бедствий и чрезвычайных ситуаций

**8. Отбор кандидатов на военную службу по контракту включает три этапа:**

- а) начальный, углублённый, заключительный
- б) начальный, углублённый, специальный
- в) предварительный, начальный, углублённый
- г) начальный, предварительный, углублённый

**9. Какое количество суставов необходимо иммобилизовать при переломе бедра или плеча?**

- а) два
- б) три
- в) четыре
- г) количество не имеет значение

**10. Укажите общие признаки ушиба, перелома и вывиха.**

- а) боль, отёк, деформация конечности
- б) боль, отёк, кровоизлияние, нарушение функции конечности
- в) боль, отёк, кровоизлияние, изменение длины конечности
- г) отёк, боль, пружинящее сопротивление при попытке пассивного движения

Всероссийская олимпиада школьников по ОБЖ. 2023–2024 уч. г.  
Муниципальный этап. 10–11 классы.

*Определите все правильные ответы.*

**11. Где разрешается пассажиру размещать ручную кладь во время перелёта?**

- а) под сиденьем впереди стоящего кресла
- б) под своими ногами
- в) в проходе слева от сиденья
- г) на полке, расположенной над местом пассажира
- д) в проходе справа от сидения

**12. Какую форму могут иметь знаки безопасности?**

- а) овальную
- б) прямоугольную
- в) полукруг
- г) конусообразную
- д) круглую

**13. Гражданам при постановке на воинский учёт предоставляется право:**

- а) выбора должности по виду или роду войск
- б) выбора должности по окончанию обучения в учебном центре
- в) выбора должности по гражданской специальности
- г) выбора должности по имеющимся навыкам
- д) выбора должности по спортивным достижениям

**14. Для каких целей предназначены противорадиационные укрытия?**

- а) для защиты от проникающей радиации, излучения в условиях радиоактивного заражения, светового излучения, ударной волны ядерного взрыва
- б) для защиты от попадания радиоактивных веществ в органы дыхания, на кожу и одежду, от попадания на кожу и одежду капель отравляющих веществ и бактериальных аэрозолей
- в) для защиты от попадания химически опасных веществ, от природных явлений, гидрологических явлений, космического излучения,
- г) для защиты населения и производительных сил страны от оружия массового поражения, а также при стихийных бедствиях, производственных авариях
- д) для защиты от проникающей химической реакции, излучения в условиях химического заражения, светового излучения, ударной волны ядерного взрыва



Управление образования  
 администрации городского округа  
 Большой Камень

- 1) Если есть доступ к подвалу, то спрятавшись в нем, взяв с собой самое необходимое (еду; документы)
- 2) Если нет такой возможности, спрятавшись в ванне или под столом.
- 3) Идти помощи.

08

Всероссийская олимпиада школьников по ОБЖ. 2023–2024 уч. г.  
Муниципальный этап. 10–11 классы.

**15. Выберите из предложенных вариантов зоны действия локальных систем оповещения?**

- а) в районах размещения ядерно- и радиационно-опасных объектов
- б) в районах размещения медико-опасных объектов
- в) в районах размещения природно-опасных объектов
- г) в районах размещения химически опасных объектов
- д) в зонах отчуждения атомных электростанций

**16. Обязательная подготовка граждан к военной службе предусматривает:**

- а) получение начальных знаний в области обороны
- б) подготовку в военных комиссариатах
- в) подготовку по основам военной службы в образовательных учреждениях и в учебных пунктах
- г) подготовку в учебных пунктах
- д) подготовку на сборах

**17. Добровольная подготовка граждан к военной службе предусматривает:**

- а) самостоятельное получение начальных знаний в области обороны
- б) занятие военно-прикладными видами спорта и обучение по дополнительным программам в школе
- в) участие в олимпиадах по основам безопасности жизнедеятельности
- г) участие в туристических пеших походах
- д) обучение в учебных центрах и в образовательных учреждениях по программам подготовки офицеров запаса

**18. Какие из представленных ниже правил оказания первой помощи при ранении глаз являются верными?**

- а) промыть повреждённый глаз водой
- б) нельзя промывать повреждённый глаз водой
- в) наложить стерильную повязку на повреждённый глаз
- г) наложить стерильную повязку на два глаза
- д) закапать в повреждённый глаз антибактериальные капли

**19. Какие из представленных ниже правил оказания первой помощи при ранении брюшной полости являются верными?**

- а) выступающие фрагменты внутренних органов накрыть чистой тканью, приложить холод к животу
- б) вправить выпавшие из раны внутренние органы
- в) дать обезболивающее средство
- г) дать обильное теплое питьё
- д) не давать обезболивающее средство и питьё



Всероссийская олимпиада школьников по ОБЖ. 2023–2024 уч. г.  
Муниципальный этап. 10–11 классы.

20. Укажите приёмы восстановления проходимости дыхательных путей:

- а) приподнимание головы
- б) запрокидывание головы
- в) выдвижение нижней челюсти
- г) использование лицевой маски
- д) использование пластиковой плёнки с клапаном одностороннего движения воздуха

Таблица ответов на тестовые задания теоретического тура

Номер задания	Верный ответ	Номер задания	Верный ответ
1	A -	11	A Г + 4
2	B -	12	Б Г Д -
3	Г -	13	Б В Г -
4	A -	14	A Д + 2
5	A + 2	15	A Г Д -
6	Б -	16	A Д + 2
7	A + 2	17	A Б Д -
8	B -	18	A B -
9	Г -	19	Б Г -
10	Г -	20	A Д -


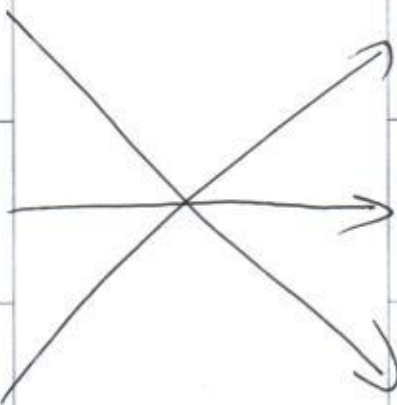





Максимум за задания 60 баллов.

128

Всероссийская олимпиада школьников по ОБЖ. 2023–2024 уч. г.  
Муниципальный этап. 10–11 классы.

Теоретические задания

1. Укажите стрелками соответствие между знаками и их названиями.

		Внимание. Электромагнитное поле.
		Запрещается разбрызгивать воду.
		Запрещается использовать в качестве питьевой воды.
		Осторожно. Вредные для здоровья аллергические (раздражающие) вещества.
		Осторожно. Биологическая опасность (Инфекционные вещества).
		Внимание. Магнитное поле.

Максимум за задание 12 баллов.

128

Всероссийская олимпиада школьников по ОБЖ. 2023–2024 уч. г.  
Муниципальный этап. 10–11 классы.

2. Укажите знаком «+» в крайнем левом или крайнем правом столбце, какие из перечисленных характеристик относятся к манёвру силами воинского подразделения, а какие к манёвру средствами воинского подразделения.

Ответ		Вид манёвра	Ответ	
	Манёвр силами		сосредоточение огня	Манёвр с средства ми
+ +2		обход		
+ -		распределение огня		
		охват	+ -	
		перенос огня	+ +2	

Максимум за задание 10 баллов.

68

3. Вывихи – стойкое изменение правильных анатомических взаимоотношений (конгруэнтности) суставных поверхностей, сопровождающееся нарушением функции поражённого сустава.

Для вывиха характерны определённые признаки, которые можно разделить на достоверные и косвенные (вероятные) признаки.

Запишите цифры нижеперечисленных признаков вывиха в соответствующие графы таблицы.

**Признаки вывиха:**

- а) отёк;
- б) деформация конечности в области сустава;
- в) боль;
- г) нарушение функции конечности;
- д) изменение длины конечности;
- е) вынужденное положение конечности;
- ё) пружинящее сопротивление при пассивных движениях;
- ж) кровоизлияние.

Достоверные признаки	Косвенные признаки
<del>а</del> Г -	<del>а</del> А +1
<del>б</del> Б -	<del>б</del> В +1
<del>в</del> Е +1	д -
<del>г</del> Ё +1	ж +1

Максимум за задание 8 баллов.

58

4. Опишите свои действия, если Ваш дом (квартира) оказался вблизи эпицентра взрыва при совершении террористического акта.

Максимум за задание 10 баллов. Максимум за работу 100 баллов

211

**Работа**  
**участника муниципального этапа**  
**всероссийской олимпиады школьников**  
**городского округа Большой Камень**  
**Приморского края 2023-2024 учебного года.**

ОБЖ  
(предмет)

ученикца 11.1 класса

МБОУ СОШ № 1

Заболотного Глеба Андреевича  
(фамилия, имя, отчество в родительном падеже)

дата рождения (Ч, М, Г) 22.10.06



ВСЕРОССИЙСКАЯ ОЛИМПИАДА ШКОЛЬНИКОВ

ПО ОБЖ 2023–2024 уч. г.

МУНИЦИПАЛЬНЫЙ ЭТАП

10–11 классы

21/11  
428

***Уважаемый участник!***

При выполнении заданий Вам предстоит выполнить определённую работу, которую лучше организовать следующим образом:

- внимательно прочитайте задание;
- если Вы отвечаете на теоретический вопрос или решаете ситуационную задачу, обдумайте и сформулируйте конкретный ответ (ответ должен быть кратким, и его содержание следует вписать в отведённое поле, пишите чётко и разборчиво);
- при ответе на тесты определите верный ответ, обведите кружком букву (буквы), соответствующую(-не) выбранному Вами ответу.

За каждый правильный ответ Вы можете получить определённое членами жюри количество баллов, не выше указанной максимальной оценки.

Сумма набранных баллов за все решённые вопросы в двух форматах – итог Вашей работы. Максимальное количество баллов – 100.

Задания считаются выполненными, если Вы вовремя сдали их членам жюри.

**Желаем успеха!**

**Тестовые задания**

*Определите один правильный ответ.*

- 1. При достижении какого возраста предоставляется право на управление транспортными средствами категории «М» и подкатегории «А1»?**
- а) по достижению восемнадцатилетнего возраста
  - б) по достижению шестнадцатилетнего возраста
  - в) по достижению семнадцатилетнего возраста
  - г) по достижению девятнадцатилетнего возраста
- 2. Сколько времени отводится в современном мегаполисе для прибытия первого подразделения пожарной охраны на место возгорания?**
- а) 10 минут
  - б) 15 минут
  - в) 20 минут
  - г) 25 минут
- 3. Что присваивается по окончании подготовки в ДОСААФ?**
- а) квалификация
  - б) военно-учётная специальность
  - в) должность специалиста
  - г) воинское звание
- 4. Какому должностному лицу предоставляется право заключать с военнослужащим первый контракт от лица Минобороны России?**
- а) начальнику военного комиссариата
  - б) командиру учебной воинской части
  - в) командующему видом войск
  - г) военному комиссару
- 5. Через какие органы и системы могут проникать аварийнохимические опасные вещества в организм человека?**
- а) органы дыхания, кожные покровы, слизистые оболочки, желудочно-кишечный тракт
  - б) органы осязания, волосяные покровы, кишечник, кровеносная система
  - в) опорно-двигательная система, мозжечок, головной мозг, слизистая оболочка
  - г) желудочно-кишечный тракт, кожные покровы, кровеносная система, зрительная система



Всероссийская олимпиада школьников по ОБЖ. 2023–2024 уч. г.  
Муниципальный этап. 10–11 классы.

**6. Какие группы опасных природных явлений наиболее распространены в Российской Федерации?**

- а) космические, подземные, надземные, вулканические, снежные
- б) чрезвычайные, местные, ситуационные, ландшафтные, биологические
- в) геологические, метеорологические, гидрологические, природные
- г) океанические, атмосферные, динамические, визуальные, медицинские

**7. Как расшифровывается аббревиатура МЧС России?**

- а) Министерство Российской Федерации по делам гражданской обороны, чрезвычайным ситуациям и ликвидации последствий стихийных бедствий
- б) Министерство Российской Федерации по делам гражданской защиты, чрезвычайным последствиям и ликвидации стихийных бедствий
- в) Министерство Российской Федерации по делам народной дружины, чрезвычайным стихийным бедствиям и ликвидации последствий
- г) Министерство Российской Федерации по делам гражданской защиты, ликвидации последствий стихийных бедствий и чрезвычайных ситуаций

**8. Отбор кандидатов на военную службу по контракту включает три этапа:**

- а) начальный, углублённый, заключительный
- б) начальный, углублённый, специальный
- в) предварительный, начальный, углублённый
- г) начальный, предварительный, углублённый

**9. Какое количество суставов необходимо иммобилизовать при переломе бедра или плеча?**

- а) два
- б) три
- в) четыре
- г) количество не имеет значение

**10. Укажите общие признаки ушиба, перелома и вывиха.**

- а) боль, отёк, деформация конечности
- б) боль, отёк, кровоизлияние, нарушение функции конечности
- в) боль, отёк, кровоизлияние, изменение длины конечности
- г) отёк, боль, пружинящее сопротивление при попытке пассивного движения



*Определите все правильные ответы.*

**11. Где разрешается пассажиру размещать ручную кладь во время перелёта?**

- а) под сиденьем впереди стоящего кресла
- б) под своими ногами
- в) в проходе слева от сиденья
- г) на полке, расположенной над местом пассажира
- д) в проходе справа от сидения

**12. Какую форму могут иметь знаки безопасности?**

- а) овальную
- б) прямоугольную
- в) полукруг
- г) конусообразную
- д) круглую

**13. Гражданам при постановке на воинский учёт предоставляется право:**

- а) выбора должности по виду или роду войск
- б) выбора должности по окончанию обучения в учебном центре
- в) выбора должности по гражданской специальности
- г) выбора должности по имеющимся навыкам
- д) выбора должности по спортивным достижениям

**14. Для каких целей предназначены противорадиационные укрытия?**

- а) для защиты от проникающей радиации, излучения в условиях радиоактивного заражения, светового излучения, ударной волны ядерного взрыва
- б) для защиты от попадания радиоактивных веществ в органы дыхания, на кожу и одежду, от попадания на кожу и одежду капель отравляющих веществ и бактериальных аэрозолей
- в) для защиты от попадания химически опасных веществ, от природных явлений, гидрологических явлений, космического излучения,
- г) для защиты населения и производительных сил страны от оружия массового поражения, а также при стихийных бедствиях, производственных авариях
- д) для защиты от проникающей химической реакции, излучения в условиях химического заражения, светового излучения, ударной волны ядерного взрыва

Всероссийская олимпиада школьников по ОБЖ. 2023–2024 уч. г.  
Муниципальный этап. 10–11 классы.

**15. Выберите из предложенных вариантов зоны действия локальных систем оповещения?**

- а) в районах размещения ядерно- и радиационно-опасных объектов
- б) в районах размещения медико-опасных объектов
- в) в районах размещения природно-опасных объектов
- г) в районах размещения химически опасных объектов
- д) в зонах отчуждения атомных электростанций

**16. Обязательная подготовка граждан к военной службе предусматривает:**

- а) получение начальных знаний в области обороны
- б) подготовку в военных комиссариатах
- в) подготовку по основам военной службы в образовательных учреждениях и в учебных пунктах
- г) подготовку в учебных пунктах
- д) подготовку на сборах

**17. Добровольная подготовка граждан к военной службе предусматривает:**

- а) самостоятельное получение начальных знаний в области обороны
- б) занятие военно-прикладными видами спорта и обучение по дополнительным программам в школе
- в) участие в олимпиадах по основам безопасности жизнедеятельности
- г) участие в туристических пеших походах
- д) обучение в учебных центрах и в образовательных учреждениях по программам подготовки офицеров запаса

**18. Какие из представленных ниже правил оказания первой помощи при ранении глаз являются верными?**

- а) промыть повреждённый глаз водой
- б) нельзя промывать повреждённый глаз водой
- в) наложить стерильную повязку на повреждённый глаз
- г) наложить стерильную повязку на два глаза
- д) закапать в повреждённый глаз антибактериальные капли

**19. Какие из представленных ниже правил оказания первой помощи при ранении брюшной полости являются верными?**

- а) выступающие фрагменты внутренних органов накрыть чистой тканью, приложить холод к животу
- б) вправить выпавшие из раны внутренние органы
- в) дать обезболивающее средство
- г) дать обильное теплое питьё
- д) не давать обезболивающее средство и питьё



Всероссийская олимпиада школьников по ОБЖ. 2023–2024 уч. г.  
Муниципальный этап. 10–11 классы.

20. Укажите приёмы восстановления проходимости дыхательных путей:

- а) приподнимание головы  
 б) запрокидывание головы  
 в) выдвижение нижней челюсти  
 г) использование лицевой маски  
 д) использование пластиковой плёнки с клапаном одностороннего движения воздуха

Таблица ответов на тестовые задания теоретического тура

Номер задания	Верный ответ	Номер задания	Верный ответ
1	б +2	11	а з +4
2	б -	12	б г +4
3	а -	13	а з г -
4	а -	14	а г +2
5	а +2	15	а б +2
6	б +2	16	а б г -
7	з -	17	а б +2
8	б -	18	б в +2
9	А -	19	а б +2
10	Б -	20	б г +2

Максимум за задания 60 баллов.


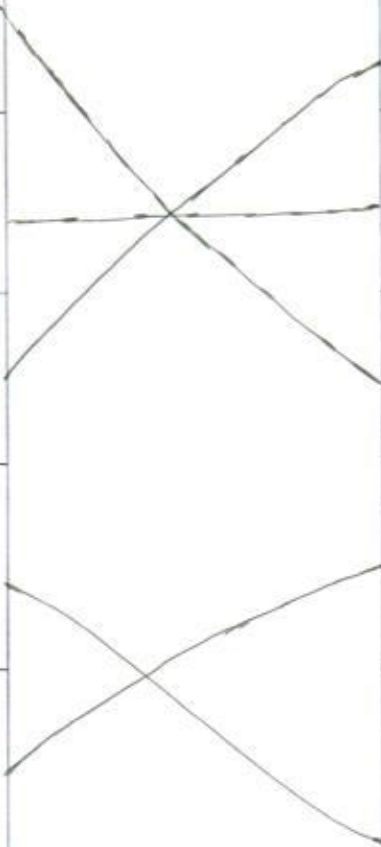



268



Всероссийская олимпиада школьников по ОБЖ. 2023–2024 уч. г.  
Муниципальный этап. 10–11 классы.

Теоретические задания

1. Укажите стрелками соответствие между знаками и их названиями.

		Внимание. Электромагнитное поле.
		Запрещается разбрызгивать воду.
		Запрещается использовать в качестве питьевой воды.
		Осторожно. Вредные для здоровья аллергические (раздражающие) вещества.
		Осторожно. Биологическая опасность (Инфекционные вещества).
		Внимание. Магнитное поле.

Максимум за задание 12 баллов.

*120*

Всероссийская олимпиада школьников по ОБЖ. 2023–2024 уч. г.  
Муниципальный этап. 10–11 классы.

2. Укажите знаком «+» в крайнем левом или крайнем правом столбце, какие из перечисленных характеристик относятся к манёвру силами воинского подразделения, а какие к манёвру средствами воинского подразделения.

Ответ		Вид манёвра	Ответ	
+	-		+	-
Манёвр силами		сосредоточение огня	Манёвр с средствами	
		обход		
		распределение огня		
		охват		
		перенос огня		

Максимум за задание 10 баллов.

08

3. Вывихи – стойкое изменение правильных анатомических взаимоотношений (конгруэнтности) суставных поверхностей, сопровождающееся нарушением функции поражённого сустава.

Для вывиха характерны определённые признаки, которые можно разделить на достоверные и косвенные (вероятные) признаки.

Запишите цифры нижеперечисленных признаков вывиха в соответствующие графы таблицы.

**Признаки вывиха:**

- отёк;
- деформация конечности в области сустава;
- боль;
- нарушение функции конечности;
- изменение длины конечности;
- вынужденное положение конечности;
- пружинящее сопротивление при пассивных движениях;
- кровоизлияние.

Достоверные признаки	Косвенные признаки
б +1	в -
г +1	а -
е +1	д +1
ж -	з -

Максимум за задание 8 баллов.

48

4. Опишите свои действия, если Ваш дом (квартира) оказался вблизи эпицентра взрыва при совершении террористического акта.

Максимум за задание 10 баллов. Максимум за работу 100 баллов

- попытайтесь выбраться из-под завала
- если нет возможности выбраться, звать на помощь
- экономить воду и еду.

15

91014

Работа  
участника муниципального этапа  
всероссийской олимпиады школьников  
городского округа Большой Камень  
Приморского края 2023-2024 учебного года.

ОБЖ

(предмет)

учени КА 11 класса А

МБОУ СОШ № 2

Лескова Степанка Евгеньевна

(фамилия, имя, отчество в родительном падеже)

дата рождения (Ч, М, Г)

04.05.2006



2024

# ВСЕРОССИЙСКАЯ ОЛИМПИАДА ШКОЛЬНИКОВ

ПО ОБЖ 2023–2024 уч. г.

МУНИЦИПАЛЬНЫЙ ЭТАП

10–11 классы

485

## *Уважаемый участник!*

При выполнении заданий Вам предстоит выполнить определённую работу, которую лучше организовать следующим образом:

– внимательно прочитайте задание;

– если Вы отвечаете на теоретический вопрос или решаете ситуационную

задачу, обдумайте и сформулируйте конкретный ответ (ответ должен быть кратким, и его содержание следует вписать в отведённое поле, пишите чётко и разборчиво);

– при ответе на тесты определите верный ответ, обведите кружком букву

(буквы), соответствующую(-не) выбранному Вами ответу.

За каждый правильный ответ Вы можете получить определённое членами жюри количество баллов, не выше указанной максимальной оценки.

Сумма набранных баллов за все решённые вопросы в двух форматах – итог Вашей работы. Максимальное количество баллов – 100.

Задания считаются выполненными, если Вы вовремя сдали их членам жюри.

**Желаем успеха!**

**Тестовые задания**

*Определите один правильный ответ.*

- 1. При достижении какого возраста предоставляется право на управление транспортными средствами категории «М» и подкатегории «А1»?**
  - а) по достижению восемнадцатилетнего возраста
  - б) по достижению шестнадцатилетнего возраста
  - в) по достижению семнадцатилетнего возраста
  - г) по достижению девятнадцатилетнего возраста
  
- 2. Сколько времени отводиться в современном мегаполисе для прибытия первого подразделения пожарной охраны на место возгорания?**
  - а) 10 минут
  - б) 15 минут
  - в) 20 минут
  - г) 25 минут
  
- 3. Что присваивается по окончании подготовки в ДОСААФ?**
  - а) квалификация
  - б) военно-учётная специальность
  - в) должность специалиста
  - г) воинское звание
  
- 4. Какому должностному лицу предоставляется право заключать с военнослужащим первый контракт от лица Минобороны России?**
  - а) начальнику военного комиссариата
  - б) командиру учебной воинской части
  - в) командующему видом войск
  - г) военному комиссару
  
- 5. Через какие органы и системы могут проникать аварийнохимические опасные вещества в организм человека?**
  - а) органы дыхания, кожные покровы, слизистые оболочки, желудочно-кишечный тракт
  - б) органы осязания, волосяные покровы, кишечник, кровеносная система
  - в) опорно-двигательная система, мозжечок, головной мозг, слизистая оболочка
  - г) желудочно-кишечный тракт, кожные покровы, кровеносная система, зрительная система

ЖЦЧ

Теоретические задания №

Ответ: Я закрою окна, спрячусь  
в ванной, позвоню в полицию, скажу и МЧС  
и буду ждать указаний от властей

Управление образования  
администрации городского округа  
Большой Камень

об



Всероссийская олимпиада школьников по ОБЖ. 2023–2024 уч. г.  
Муниципальный этап. 10–11 классы.

**6. Какие группы опасных природных явлений наиболее распространены в Российской Федерации?**

- а) космические, подземные, надземные, вулканические, снежные
- б) чрезвычайные, местные, ситуационные, ландшафтные, биологические
- в) геологические, метеорологические, гидрологические, природные
- г) океанические, атмосферные, динамические, визуальные, медицинские

**7. Как расшифровывается аббревиатура МЧС России?**

- а) Министерство Российской Федерации по делам гражданской обороны, чрезвычайным ситуациям и ликвидации последствий стихийных бедствий
- б) Министерство Российской Федерации по делам гражданской защиты, чрезвычайным последствиям и ликвидации стихийных бедствий
- в) Министерство Российской Федерации по делам народной дружины, чрезвычайным стихийным бедствиям и ликвидации последствий
- г) Министерство Российской Федерации по делам гражданской защиты, ликвидации последствий стихийных бедствий и чрезвычайных ситуаций

**8. Отбор кандидатов на военную службу по контракту включает три этапа:**

- а) начальный, углублённый, заключительный
- б) начальный, углублённый, специальный
- в) предварительный, начальный, углублённый
- г) начальный, предварительный, углублённый

**9. Какое количество суставов необходимо иммобилизовать при переломе бедра или плеча?**

- а) два
- б) три
- в) четыре
- г) количество не имеет значение

**10. Укажите общие признаки ушиба, перелома и вывиха.**

- а) боль, отёк, деформация конечности
- б) боль, отёк, кровоизлияние, нарушение функции конечности
- в) боль, отёк, кровоизлияние, изменение длины конечности
- г) отёк, боль, пружинящее сопротивление при попытке пассивного движения

Всероссийская олимпиада школьников по ОБЖ. 2023–2024 уч. г.  
Муниципальный этап. 10–11 классы.

*Определите все правильные ответы.*

**11. Где разрешается пассажиру размещать ручную кладь во время перелёта?**

- а) под сиденьем впереди стоящего кресла
- б) под своими ногами
- в) в проходе слева от сиденья
- г) на полке, расположенной над местом пассажира
- д) в проходе справа от сидения

**12. Какую форму могут иметь знаки безопасности?**

- а) овальную
- б) прямоугольную
- в) полукруг
- г) конусообразную
- д) круглую

**13. Гражданам при постановке на воинский учёт предоставляется право:**

- а) выбора должности по виду или роду войск
- б) выбора должности по окончании обучения в учебном центре
- в) выбора должности по гражданской специальности
- г) выбора должности по имеющимся навыкам
- д) выбора должности по спортивным достижениям

**14. Для каких целей предназначены противорадиационные укрытия?**

- а) для защиты от проникающей радиации, излучения в условиях радиоактивного заражения, светового излучения, ударной волны ядерного взрыва
- б) для защиты от попадания радиоактивных веществ в органы дыхания, на кожу и одежду, от попадания на кожу и одежду капель отравляющих веществ и бактериальных аэрозолей
- в) для защиты от попадания химически опасных веществ, от природных явлений, гидрологических явлений, космического излучения,
- г) для защиты населения и производительных сил страны от оружия массового поражения, а также при стихийных бедствиях, производственных авариях
- д) для защиты от проникающей химической реакции, излучения в условиях химического заражения, светового излучения, ударной волны ядерного взрыва



Всероссийская олимпиада школьников по ОБЖ. 2023–2024 уч. г.  
Муниципальный этап. 10–11 классы.

**15. Выберите из предложенных вариантов зоны действия локальных систем оповещения?**

- а) в районах размещения ядерно- и радиационно-опасных объектов
- б) в районах размещения медико-опасных объектов
- в) в районах размещения природно-опасных объектов
- г) в районах размещения химически опасных объектов
- д) в зонах отчуждения атомных электростанций

**16. Обязательная подготовка граждан к военной службе предусматривает:**

- а) получение начальных знаний в области обороны
- б) подготовку в военных комиссариатах
- в) подготовку по основам военной службы в образовательных учреждениях и в учебных пунктах
- г) подготовку в учебных пунктах
- д) подготовку на сборах

**17. Добровольная подготовка граждан к военной службе предусматривает:**

- а) самостоятельное получение начальных знаний в области обороны
- б) занятие военно-прикладными видами спорта и обучение по дополнительным программам в школе
- в) участие в олимпиадах по основам безопасности жизнедеятельности
- г) участие в туристических пеших походах
- д) обучение в учебных центрах и в образовательных учреждениях по программам подготовки офицеров запаса

**18. Какие из представленных ниже правил оказания первой помощи при ранении глаз являются верными?**

- а) промыть повреждённый глаз водой
- б) нельзя промывать повреждённый глаз водой
- в) наложить стерильную повязку на повреждённый глаз
- г) наложить стерильную повязку на два глаза
- д) закапать в повреждённый глаз антибактериальные капли

**19. Какие из представленных ниже правил оказания первой помощи при ранении брюшной полости являются верными?**

- а) выступающие фрагменты внутренних органов накрыть чистой тканью, приложить холод к животу
- б) вправить выпавшие из раны внутренние органы
- в) дать обезболивающее средство
- г) дать обильное теплое питьё
- д) не давать обезболивающее средство и питьё



Всероссийская олимпиада школьников по ОБЖ. 2023–2024 уч. г.  
Муниципальный этап. 10–11 классы.

20. Укажите приёмы восстановления проходимости дыхательных путей:

- а) приподнимание головы
- б) запрокидывание головы
- в) выдвижение нижней челюсти
- г) использование лицевой маски
- д) использование пластиковой плёнки с клапаном одностороннего движения воздуха

Таблица ответов на тестовые задания теоретического тура

Номер задания	Верный ответ	Номер задания	Верный ответ
1	б +2	11	а, з +4
2	б -	12	з, б +2
3	б +2	13	б, в, з, б -
4	а -	14	а, з +2
5	а +2	15	а, в, б, з -
6	а -	16	а, б, з, б -
7	з -	17	б, в, з -
8	б -	18	б, в +2
9	б +2	19	а, з +4
10	з -	20	а, в +2

Максимум за задания 60 баллов.

248

Всероссийская олимпиада школьников по ОБЖ. 2023–2024 уч. г.  
Муниципальный этап. 10–11 классы.

Теоретические задания

1. Укажите стрелками соответствие между знаками и их названиями.

		Внимание. Электромагнитное поле.
		Запрещается разбрызгивать воду.
		Запрещается использовать в качестве питьевой воды.
		Осторожно. Вредные для здоровья аллергические (раздражающие) вещества.
		Осторожно. Биологическая опасность (Инфекционные вещества).
		Внимание. Магнитное поле.

Максимум за задание 12 баллов.

120

Всероссийская олимпиада школьников по ОБЖ. 2023–2024 уч. г.  
Муниципальный этап. 10–11 классы.

2. Укажите знаком «+» в крайнем левом или крайнем правом столбце, какие из перечисленных характеристик относятся к манёвру силами воинского подразделения, а какие к манёвру средствами воинского подразделения.

Ответ		Вид манёвра	Ответ	
+	Манёвр силами	сосредоточение огня	Манёвр с средствами	+
		обход		
		распределение огня		+
		охват		
		перенос огня		+

Максимум за задание 10 баллов.

+100

3. Вывихи – стойкое изменение правильных анатомических взаимоотношений (конгруэнтности) суставных поверхностей, сопровождающееся нарушением функции поражённого сустава.

Для вывиха характерны определённые признаки, которые можно разделить на достоверные и косвенные (вероятные) признаки.

Запишите цифры нижеперечисленных признаков вывиха в соответствующие графы таблицы.

**Признаки вывиха:**

- а) отёк;
- б) деформация конечности в области сустава;
- в) боль;
- г) нарушение функции конечности;
- д) изменение длины конечности;
- е) вынужденное положение конечности;
- ё) пружинящее сопротивление при пассивных движениях;
- ж) кровоизлияние.

Достоверные признаки	Косвенные признаки
+ а -	е -
в -	г -
2 -	ё -
ё +1	ж +1

Максимум за задание 8 баллов.

20

4. Опишите свои действия, если Ваш дом (квартира) оказался вблизи эпицентра взрыва при совершении террористического акта.

Максимум за задание 10 баллов. Максимум за работу 100 баллов



ЖК

**Работа**  
**участника муниципального этапа**  
**всероссийской олимпиады школьников**  
**городского округа Большой Камень**  
**Приморского края 2023-2024 учебного года.**

ОБЖ

(предмет)

учени КА 11 класса

МБОУ СОШ № 2

Сирорякина Максима Алексеевича

(фамилия, имя, отчество в родительном падеже)

дата рождения (Ч, М, Г)

22.06.2006

ЖСР

ВСЕРОССИЙСКАЯ ОЛИМПИАДА ШКОЛЬНИКОВ

ПО ОБЖ 2023–2024 уч. г.

МУНИЦИПАЛЬНЫЙ ЭТАП

10–11 классы

578

***Уважаемый участник!***

При выполнении заданий Вам предстоит выполнить определённую работу, которую лучше организовать следующим образом:

– внимательно прочитайте задание;

– если Вы отвечаете на теоретический вопрос или решаете ситуационную задачу, обдумайте и сформулируйте конкретный ответ (ответ должен быть кратким, и его содержание следует вписать в отведённое поле, пишите чётко и разборчиво);

– при ответе на тесты определите верный ответ, обведите кружком букву (буквы), соответствующую(-не) выбранному Вами ответу.

За каждый правильный ответ Вы можете получить определённое членами жюри количество баллов, не выше указанной максимальной оценки.

Сумма набранных баллов за все решённые вопросы в двух форматах – итог Вашей работы. Максимальное количество баллов – 100.

Задания считаются выполненными, если Вы вовремя сдали их членам жюри.

**Желаем успеха!**

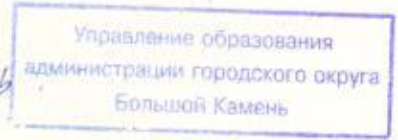
**Тестовые задания**

*Определите один правильный ответ.*

- 1. При достижении какого возраста предоставляется право на управление транспортными средствами категории «М» и подкатегории «А1»?**
- а) по достижению восемнадцатилетнего возраста
  - б) по достижению шестнадцатилетнего возраста
  - в) по достижению семнадцатилетнего возраста
  - г) по достижению девятнадцатилетнего возраста
- 2. Сколько времени отводиться в современном мегаполисе для прибытия первого подразделения пожарной охраны на место возгорания?**
- а) 10 минут
  - б) 15 минут
  - в) 20 минут
  - г) 25 минут
- 3. Что присваивается по окончании подготовки в ДОСААФ?**
- а) квалификация
  - б) военно-учётная специальность
  - в) должность специалиста
  - г) воинское звание
- 4. Какому должностному лицу предоставляется право заключать с военнослужащим первый контракт от лица Минобороны России?**
- а) начальнику военного комиссариата
  - б) командиру учебной воинской части
  - в) командующему видом войск
  - г) военному комиссару
- 5. Через какие органы и системы могут проникать аварийнохимические опасные вещества в организм человека?**
- а) органы дыхания, кожные покровы, слизистые оболочки, желудочно-кишечный тракт
  - б) органы осязания, волосяные покровы, кишечник, кровеносная система
  - в) опорно-двигательная система, мозжечок, головной мозг, слизистая оболочка
  - г) желудочно-кишечный тракт, кожные покровы, кровеносная система, зрительная система



4. 1. Позвонить в спасательные службы и полицию, сообщить о произошедшем, указать свой имя и фамилию.
2. Следовать указаниям полиции, не предпринимать самостоятельных решений, не паниковать.



об

Всероссийская олимпиада школьников по ОБЖ. 2023–2024 уч. г.  
Муниципальный этап. 10–11 классы.

**6. Какие группы опасных природных явлений наиболее распространены в Российской Федерации?**

- а) космические, подземные, надземные, вулканические, снежные
- б) чрезвычайные, местные, ситуационные, ландшафтные, биологические
- в) геологические, метеорологические, гидрологические, природные
- г) океанические, атмосферные, динамические, визуальные, медицинские

**7. Как расшифровывается аббревиатура МЧС России?**

- а) Министерство Российской Федерации по делам гражданской обороны, чрезвычайным ситуациям и ликвидации последствий стихийных бедствий
- б) Министерство Российской Федерации по делам гражданской защиты, чрезвычайным последствиям и ликвидации стихийных бедствий
- в) Министерство Российской Федерации по делам народной дружины, чрезвычайным стихийным бедствиям и ликвидации последствий
- г) Министерство Российской Федерации по делам гражданской защиты, ликвидации последствий стихийных бедствий и чрезвычайных ситуаций

**8. Отбор кандидатов на военную службу по контракту включает три этапа:**

- а) начальный, углублённый, заключительный
- б) начальный, углублённый, специальный
- в) предварительный, начальный, углублённый
- г) начальный, предварительный, углублённый

**9. Какое количество суставов необходимо иммобилизовать при переломе бедра или плеча?**

- а) два
- б) три
- в) четыре
- г) количество не имеет значение

**10. Укажите общие признаки ушиба, перелома и вывиха.**

- а) боль, отёк, деформация конечности
- б) боль, отёк, кровоизлияние, нарушение функции конечности
- в) боль, отёк, кровоизлияние, изменение длины конечности
- г) отёк, боль, пружинящее сопротивление при попытке пассивного движения



Всероссийская олимпиада школьников по ОБЖ. 2023–2024 уч. г.  
Муниципальный этап. 10–11 классы.

*Определите все правильные ответы.*

**11. Где разрешается пассажиру размещать ручную кладь во время перелёта?**

- а) под сиденьем впереди стоящего кресла
- б) под своими ногами
- в) в проходе слева от сиденья
- г) на полке, расположенной над местом пассажира
- д) в проходе справа от сидения

**12. Какую форму могут иметь знаки безопасности?**

- а) овальную
- б) прямоугольную
- в) полукруг
- г) конусообразную
- д) круглую

**13. Гражданам при постановке на воинский учёт предоставляется право:**

- а) выбора должности по виду или роду войск
- б) выбора должности по окончании обучения в учебном центре
- в) выбора должности по гражданской специальности
- г) выбора должности по имеющимся навыкам
- д) выбора должности по спортивным достижениям

**14. Для каких целей предназначены противорадиационные укрытия?**

- а) для защиты от проникающей радиации, излучения в условиях радиоактивного заражения, светового излучения, ударной волны ядерного взрыва
- б) для защиты от попадания радиоактивных веществ в органы дыхания, на кожу и одежду, от попадания на кожу и одежду капель отравляющих веществ и бактериальных аэрозолей
- в) для защиты от попадания химически опасных веществ, от природных явлений, гидрологических явлений, космического излучения,
- г) для защиты населения и производительных сил страны от оружия массового поражения, а также при стихийных бедствиях, производственных авариях
- д) для защиты от проникающей химической реакции, излучения в условиях химического заражения, светового излучения, ударной волны ядерного взрыва



Всероссийская олимпиада школьников по ОБЖ. 2023–2024 уч. г.  
Муниципальный этап. 10–11 классы.

**15. Выберите из предложенных вариантов зоны действия локальных систем оповещения?**

- а) в районах размещения ядерно- и радиационно-опасных объектов
- б) в районах размещения медико-опасных объектов
- в) в районах размещения природно-опасных объектов
- г) в районах размещения химически опасных объектов
- д) в зонах отчуждения атомных электростанций

**16. Обязательная подготовка граждан к военной службе предусматривает:**

- а) получение начальных знаний в области обороны
- б) подготовку в военных комиссариатах
- в) подготовку по основам военной службы в образовательных учреждениях и в учебных пунктах
- г) подготовку в учебных пунктах
- д) подготовку на сборах

**17. Добровольная подготовка граждан к военной службе предусматривает:**

- а) самостоятельное получение начальных знаний в области обороны
- б) занятие военно-прикладными видами спорта и обучение по дополнительным программам в школе
- в) участие в олимпиадах по основам безопасности жизнедеятельности
- г) участие в туристических пеших походах
- д) обучение в учебных центрах и в образовательных учреждениях по программам подготовки офицеров запаса

**18. Какие из представленных ниже правил оказания первой помощи при ранении глаз являются верными?**

- а) промыть повреждённый глаз водой
- б) нельзя промывать повреждённый глаз водой
- в) наложить стерильную повязку на повреждённый глаз
- г) наложить стерильную повязку на два глаза
- д) закапать в повреждённый глаз антибактериальные капли

**19. Какие из представленных ниже правил оказания первой помощи при ранении брюшной полости являются верными?**

- а) выступающие фрагменты внутренних органов накрыть чистой тканью, приложить холод к животу
- б) вправить выпавшие из раны внутренние органы
- в) дать обезболивающее средство
- г) дать обильное теплое питье
- д) не давать обезболивающее средство и питье

Всероссийская олимпиада школьников по ОБЖ. 2023–2024 уч. г.  
Муниципальный этап. 10–11 классы.

20. Укажите приёмы восстановления проходимости дыхательных путей:

- а) приподнимание головы
- б) запрокидывание головы
- в) выдвижение нижней челюсти
- г) использование лицевой маски
- д) использование пластиковой плёнки с клапаном одностороннего движения воздуха

Таблица ответов на тестовые задания теоретического тура

Номер задания	Верный ответ	Номер задания	Верный ответ
1	A —	11	A, Г + 4
2	B —	12	B, Г + 4
3	Г —	13	B, B + 2
4	a —	14	A, Г + 2
5	a + 2	15	A, Г + 4
6	B + 2	16	A, B + 4
7	Г —	17	A, B + 2
8	B —	18	B, B + 2
9	B + 2	19	A, Г + 4
10	A —	20	A, Г, Г —


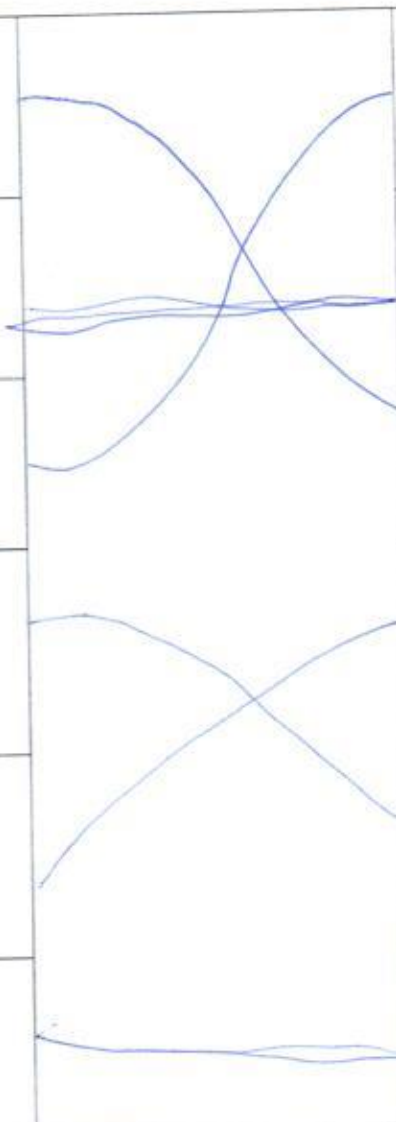





Максимум за задания 60 баллов.

348

Всероссийская олимпиада школьников по ОБЖ. 2023–2024 уч. г.  
Муниципальный этап. 10–11 классы.

**Теоретические задания**

1. Укажите стрелками соответствие между знаками и их названиями.

		Внимание. Электромагнитное поле.
		Запрещается разбрызгивать воду.
		Запрещается использовать в качестве питьевой воды.
		Осторожно. Вредные для здоровья аллергические (раздражающие) вещества.
		Осторожно. Биологическая опасность (Инфекционные вещества).
		Внимание. Магнитное поле.

Максимум за задание 12 баллов.

120



Всероссийская олимпиада школьников по ОБЖ. 2023–2024 уч. г.  
Муниципальный этап. 10–11 классы.

2. Укажите знаком «+» в крайнем левом или крайнем правом столбце, какие из перечисленных характеристик относятся к манёвру силами воинского подразделения, а какие к манёвру средствами воинского подразделения.

Ответ		Вид манёвра	Ответ	
	Манёвр силами	сосредоточение огня	Манёвр с средствами	+ + 2
+		обход		
		распределение огня		+ + 2
+		охват		
		перенос огня		+ + 2

Максимум за задание 10 баллов.

108

3. Вывихи – стойкое изменение правильных анатомических взаимоотношений (конгруэнтности) суставных поверхностей, сопровождающееся нарушением функции поражённого сустава.

Для вывиха характерны определённые признаки, которые можно разделить на достоверные и косвенные (вероятные) признаки.

Запишите цифры нижеперечисленных признаков вывиха в соответствующие графы таблицы.

**Признаки вывиха:**

- отёк;
- деформация конечности в области сустава;
- боль;
- нарушение функции конечности;
- изменение длины конечности;
- вынужденное положение конечности;
- пружинящее сопротивление при пассивных движениях;
- кровоизлияние.

Достоверные признаки	Косвенные признаки
Г —	<del>А</del> <del>Б</del> Г —
Б —	Е —
А —	Е —
В —	Ж + 1

Максимум за задание 8 баллов.

18

4. Опишите свои действия, если Ваш дом (квартира) оказался вблизи эпицентра взрыва при совершении террористического акта.

Максимум за задание 10 баллов. Максимум за работу 100 баллов